

APRENDEMOS JUNTOS

LA TABLA DE MULTIPLICAR DEL 2


APRENDE EN CASA



SERIE DE LA TABLA DE MULTIPLICAR DEL 2

ASCENDENTE


0, 2, 4, 6, 8, 10, 12, 14, 16, 18, 20



SERIE DE LA TABLA DE MULTIPLICAR DEL 2

DESCENDENTE

20, 18, 16, 14, 12, 10, 8, 6, 4, 2, 0



SERIE DE LA TABLA DE MULTIPLICAR DEL 2

2

Sumar de 2 en 2 



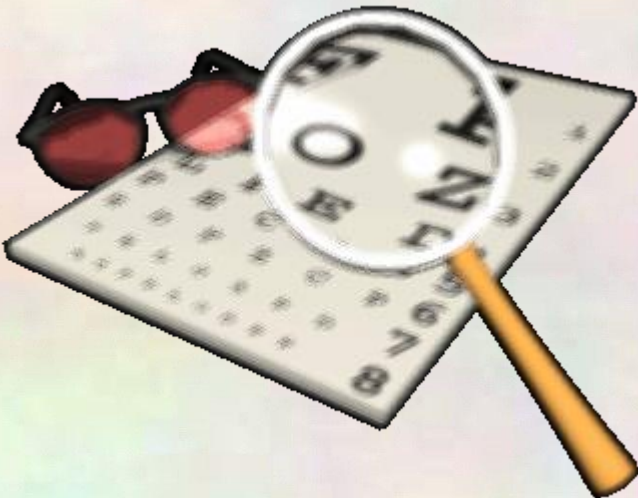
 Restar de 2 en 2



EJERCICIO

Encuentra el número perdido de la
Tabla del 2

Sumar 2



EJERCICIO

Encuentra el número perdido de la
Tabla del 2

Sumar 2



EJERCICIO

Encuentra el número perdido de la
Tabla del 2

Restar 2



EJERCICIO

Encuentra el número perdido de la
Tabla del 2

Restar 2



TABLA DE MULTIPLICAR DEL 2

$$2 \times 0 = 0$$

$$2 \times 1 = 2$$

$$2 \times 2 = 4$$

$$2 \times 3 = 6$$

$$2 \times 4 = 8$$

$$2 \times 5 = 10$$

$$2 \times 6 = 12$$

$$2 \times 7 = 14$$

$$2 \times 8 = 16$$

$$2 \times 9 = 18$$

$$2 \times 10 = 20$$

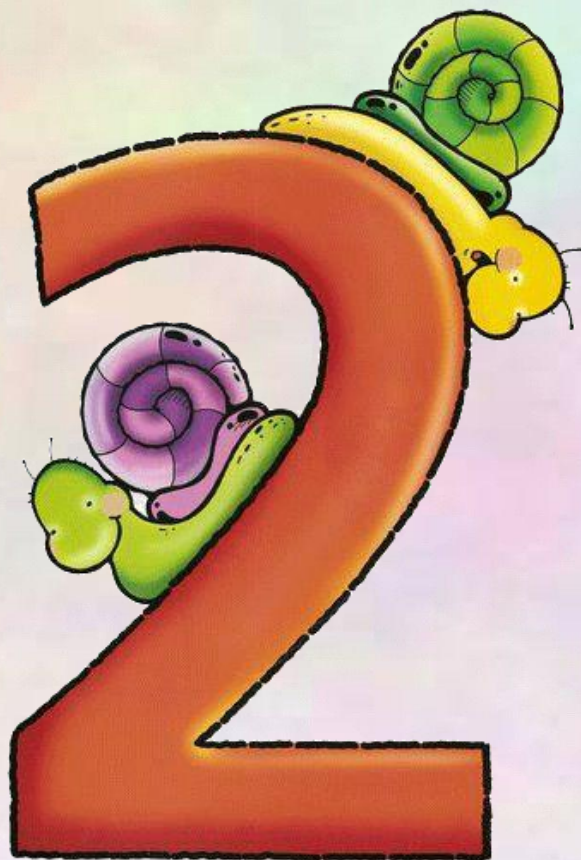





Tabla de Multiplicar del 2



0 abejas


0 grupo

$$2 \times 0 = 0$$





Tabla de Multiplicar del 2



2 abejas

1 grupo

$$2 \times 1 = 2$$





Tabla de Multiplicar del 2



2 abejas


2 grupos

$$2 \times 2 = 4$$





Tabla de Multiplicar del 2



2 abejas

3 grupos

$$2 \times 3 = 6$$






Tabla de Multiplicar del 2



2 abejas



4 grupos

$$2 \times 4 = 8$$






Tabla de Multiplicar del 2



2 abejas



5 grupos

$$2 \times 5 = 10$$






Tabla de Multiplicar del 2



2 abejas



6 grupos

$$2 \times 6 = 12$$





Tabla de Multiplicar del 2



2 abejas



7 grupos

$$2 \times 7 = 14$$






Tabla de Multiplicar del 2



2 abejas



8 grupos

$$2 \times 8 = 16$$





Tabla de Multiplicar del 2



2 abejas



9 grupos

$$2 \times 9 = 18$$





Tabla de Multiplicar del 2



2 abejas



10 grupos

$$2 \times 10 = 20$$



SERIE DE LA TABLA DEL 2



NUMEROS DEL
0 AL 10

0 1 2 3 4 5 6 7 8 9 10



SERIE 0, 2, 4, 6, 8, 10, 12, 14, 16, 18, 20

EJERCICIO



0	<input type="text"/>	=	<input type="text"/>				
1	2	=	<input type="text"/>				
2	2	2	=	<input type="text"/>			
3	2	2	2	=	<input type="text"/>		
4	2	2	2	2	=	<input type="text"/>	
5	2	2	2	2	2	=	<input type="text"/>

EJERCICIO



6 $2 \times 2 \times 2 \times 2 \times 2 \times 2 = \square$

7 $2 \times 2 \times 2 \times 2 \times 2 \times 2 \times 2 = \square$

8 $2 \times 2 \times 2 \times 2 \times 2 \times 2 \times 2 \times 2 = \square$

9 $2 \times 2 \times 2 \times 2 \times 2 \times 2 \times 2 \times 2 \times 2 = \square$

10 $2 \times 2 \times 2 \times 2 \times 2 \times 2 \times 2 \times 2 \times 2 \times 2 = \square$

Tabla de Multiplicar del 2

$$2 \times 0 = 0$$

$$2 \times 1 = 2$$

$$2 \times 2 = 4$$

$$2 \times 3 = 6$$

$$2 \times 4 = 8$$

$$2 \times 5 = 10$$

$$2 \times 6 = 12$$

$$2 \times 7 = 14$$

$$2 \times 8 = 16$$

$$2 \times 9 = 18$$

$$2 \times 10 = 20$$



$$2 \times 10 =$$

$$2 \times 0 =$$

$$2 \times 6 =$$

$$2 \times 4 =$$

$$2 \times 5 =$$

$$2 \times 2 =$$

$$2 \times 8 =$$

$$2 \times 7 =$$


$$2 \times 9 =$$

$$2 \times 1 =$$

$$2 \times 3 =$$

PARA CONTESTAR

Ejercicio de la Tabla del 2




Ejercicio de Tabla de Multiplicar del 2



$$\begin{array}{r} 9 \\ x \\ \hline \end{array}$$

$$\begin{array}{r} 6 \\ x \\ \hline \end{array}$$



$$\begin{array}{r} 3 \\ x \\ \hline \end{array}$$

$$\begin{array}{r} 7 \\ x \\ \hline \end{array}$$

$$\begin{array}{r} 8 \\ x \\ \hline \end{array}$$

$$\begin{array}{r} 2 \\ x \\ \hline 18 \end{array}$$

$$\begin{array}{r} 10 \\ x \\ \hline \end{array}$$

$$\begin{array}{r} 5 \\ x \\ \hline \end{array}$$

$$\begin{array}{r} 4 \\ x \\ \hline \end{array}$$

$$\begin{array}{r} 1 \\ x \\ \hline \end{array}$$

Ejercicio de Tabla de Multiplicar del 2



$2 \times 5 =$

$2 \times 6 =$

$2 \times 8 =$

$2 \times 3 =$

$2 \times 2 =$

$2 \times 1 =$

$2 \times 7 =$

$2 \times 4 =$

$2 \times 9 =$

$2 \times 10 =$



JUEGOS EN INTERNET



DAR CLIC PARA JUGAR



DAR CLIC PARA JUGAR



DAR CLIC PARA JUGAR



DAR CLIC PARA JUGAR